

REKENTERMEN

DEEL 7

REKENTERMEN

DEEL 7

Deel A:

Opdracht 1:

Leer de onderstaande woorden!

- 1. turven: (turfde(n) – geturfd):** als je turft dan tel je hoeveelheden (aantallen) door het zetten van streepjes (4 streepjes naast elkaar en het vijfde streepje erdoorheen) – het is een snelle manier om tellend hoeveelheden (aantallen) bij te houden – je telt per 5
 - Sonja stond tijdens de open dag van onze school bij de hoofdingang en hield het aantal bezoekers op deze dag bij. Dat deed ze door te **turven** als er één of meer bezoekers kwamen. Aan het eind van de dag heeft ze alle streepjes geteld. Er bleken 787 bezoekers te zijn gekomen.
- 2. wisselen (van geld): (wisselde(n) – gewisseld):** als je geld wisselt dan ruil je geld met iemand – je geeft die persoon hetzelfde bedrag (= hoeveelheid geld) als je terugkrijgt, maar het zijn andere bankbiljetten (briefjes) en of munten
 - Harold heeft bij de juffrouw van de schoolcatering een briefje van 10 euro **gewisseld** in 10 losse euro's. Nu kan hij wel warme chocolademelk uit de drankenautomaat kopen.
- 3. vooraan:** als iets vooraan is of jij bent vooraan dan is dat iets of dan ben jij op de voorste plaats (tegenovergestelde van “**achteraan**”)
 - Maaïke gaat altijd **vooraan** in de klas zitten. Dan zitten er geen leerlingen voor haar en kan ze zich beter concentreren tijdens de les.
- 4. veraf:** als iets of iemand veraf is dan is dat iets of die persoon op grote afstand (tegenovergestelde van “**dichtbij**”)
 - De zon staat echt **veraf** van de aarde. Dan moet je al snel aan een afstand tussen de zon en de aarde van miljoenen kilometers denken.

- 5. smal:** als iets smal is dan is dat met een kleine afstand tussen twee langere kanten (tegenovergesteld van “**breed**”)
- De woonkamer van mijn tante is lang, maar ook erg **smal**. Die kamer is van de voor- naar de achterkant 12 meter. Van de rechter- naar de linkerkant is die kamer maar 3 meter.
- 6. circa:** circa betekent hetzelfde als **ongeveer**
- Ik heb onze tuin niet precies gemeten, maar die tuin is **circa** 12 meter lang. Zal ik de lengte van die tuin eens meten? 11 meter en 80 centimeter.
- 7. kolom: de kolom – de kolommen:** een kolom is een smalle strook met tekst of getallen op een bladzijde (in o.a. een boek, krant en tijdschrift)
- Deze oefening in je taalboek bestaat uit twee **kolommen**. In de linkerkolom staat steeds het begin van de zin en in de rechterkolom staat steeds het einde van elke zin. Maak elke keer een goede zin door beide delen van de zin goed met elkaar te verbinden!
- 8. één op de (twee, drie, vier, vijf,.....) – maar ook twee op de drie – vier op de zeven – negen op de tien: ”op”** betekent hier “van”
- vier op de vijf = _____**
- zes op de zeven = _____**
- Maar:** Maar deze auto rijdt 1 op 15. = Deze auto rijdt met **1 liter benzine (of diesel of gas) 15 kilometer.**
- Vorig jaar hadden **drie op de vier** huishoudens in Nederland een kerstboom in huis. Dus van elke vier huishoudens in Nederland hadden er drie een kerstboom in huis.
- 9. bankrekening: de bankrekening – de bankrekeningen:** als je een bankrekening hebt dan heb je geld (of schuld) bij een bank - je kunt met een bankrekening betalingen doen, je kunt geld van je bankrekening afhalen en er kan geld op je bankrekening gestort worden
- Nimo heeft €754,00 op haar **bankrekening** staan. Daarmee kan ze gemakkelijk die kast van €85,00 betalen.
- 10. gepast betalen = met gepast geld betalen:** als je met gepast geld

betaalt dan betaal je precies zoveel als je moet betalen (zodat je geen geld terugkrijgt)

- Kunt u misschien **gepast betalen**? Ik heb geen wisselgeld bij me. Ik kan u dus geen wisselgeld teruggeven.

Opdracht 2:

Hieronder staan 10 plaatjes. Noteer onder die plaatjes het juiste woord of de juiste woorden! Kies uit de woorden die bij opdracht 1 staan!

plaatje 1:



plaatje 2:



basisschool-
leerlingen

havo/vwo
leerling

Hoeveel vogels?

plaatje 3:

BANK

MR EYE OPEN, MR EYE OPEN
MEERWENLAAN 98-100
1021 JL AMSTERDAM

Afschrift Betaalrekening		Datum	Debit	Saldo
		28-02-2016	1 van 1	€
			1633,30	1035,25
			425,75	1264,50

Datum	Omschrijving	Debit	Saldo
1 FEB	IBAN: NL01ING00000123456 Naam: A.B. Jansen	GT	250,30
12 FEB	IBAN: NL02ING01234000000 Naam: C.D. de Vries Omschrijving: Wit eten	GT	93,75
15 FEB	VAN Oranjespaarrekening T12399900	OV	25,00
22 FEB	IBAN: NL01RAB05678000012 v.o.f. Bedrijf Omschrijving: Salaris	OV	1400,00
22 FEB	IBAN: NL02ING00012003499 Naam: BELASTINGDIENST Kennis: 20160000123456789 Omschrijving: NAARD NRT. NR. 1231231231000099 VOORSCHOT LORWTOESLAG 2016 (EYE OPEN) NEER INFO OP WWW.TROESLAGEN.NL	YL	83,00
26 FEB	IBAN: NL02RAB00000123400 Naam: E.F. Bakker	GT	55,00

plaatje 4:



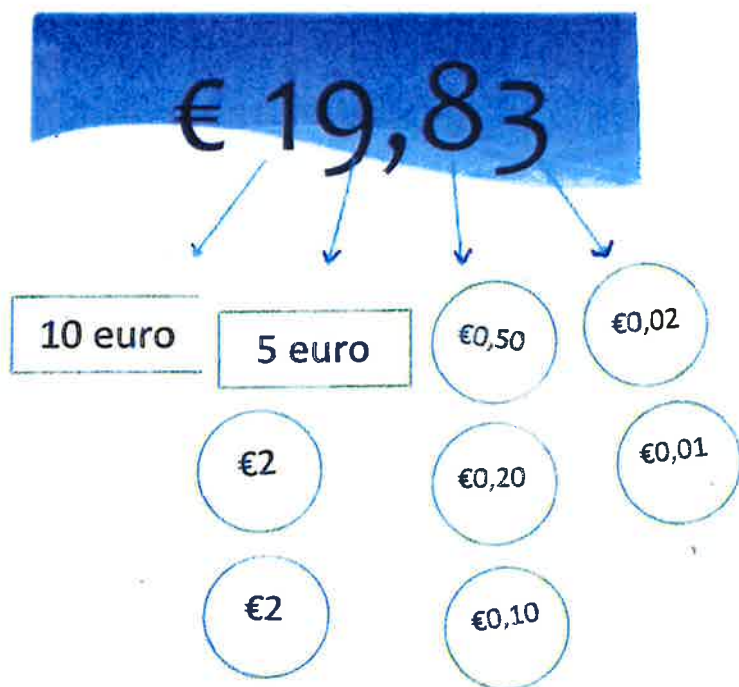
plaatje 5:




plaatje 6:



plaatje 7:



plaatje 8:



plaatje 9:



plaatje 10:



Tabel 1

	Kalam 1	Kalam 2	Kalam 3
Rij 1			
Rij 2			
Rij 3			
Rij 4			
Rij 5			

Opdracht 3:

Beantwoord de onderstaande vragen en opdrachten op de juiste wijze!

1. Wanneer is het verstandiger om te turven dan “gewoon” te tellen als je bepaalde aantallen moet weten? _____

2. Waarom wisselt iemand wel eens geld? Noem twee redenen! _____

3. Waar loop je als je tijdens een hardloopwedstrijd vooraan loopt? _____

4. Noem drie plaatsen in Nederland die veraf van Eindhoven liggen! _____

5. Leg uit wat een smalle boekenplank is! _____

6. Hoeveel jaar geleden is het als je opa zijn oud-klasgenoot Johan circa 55 jaar niet heeft gezien? _____
7. Waarom worden artikelen in kranten en tijdschriften vaak in kolommen verdeeld? _____

8. Leg de volgende zin uit: “Twee op de zeven ouderen in ons land voelen zich vaak eenzaam.” _____

9. Wanneer is het verstandig om een bankrekening te hebben? Noem drie redenen! _____

10. Leg uit hoe je €4,65 gepast kunt betalen! _____

Opdracht 4:

Zijn de onderstaande zinnen waar of niet waar? Noteer op de juiste wijze waar of niet waar achter elke zin!

1. Als een bladzijde in de krant in kolommen is verdeeld dan staan er alleen maar korte artikelen op die bladzijde.
2. Als je gepast betaalt dan betaal je precies zoveel als je moet betalen.

3. Als je turft dan tel je aantallen door steeds vier streepjes naast elkaar te zetten en het vijfde streepje erdoorheen te zetten.
4. Als er langs een weiland van 250 meter een smalle sloot ligt dan ben je met een klein stapje van de ene kant naar de overkant van die sloot.
5. Iedereen die een bankrekening heeft, heeft minimaal 10 euro op zijn bankrekening staan.
6. Als je vooraan in de bus zit dan zit je vlakbij de buschauffeur.
7. Als vier op de tien jongeren in Europa te weinig bewegen dan bewegen zes jongeren in Europa te weinig.
8. Als je geld wisselt dan krijg je minder geld terug dan je hebt gegeven.
9. Als je een zak aardappelen van 5 kilo koopt dan zitten daar altijd circa 50 aardappelen in.
10. Als je veraf van school woont dan woon je 3 kilometer van school.

Opdracht 5:

Hieronder staan zinnen. In die zinnen moeten de juiste woorden ingevuld worden. Kies uit de woorden van opdracht 1!

1. Zijn vader moet voor zijn werk vaak verre reizen maken. Die reizen maakt hij dan met het vliegtuig. Om dan tijdens die reizen meer beenruimte te hebben, gaat hij dan ook _____ in het vliegtuig zitten.
2. Van de tien miljoen volwassen Belgen ervaren er acht miljoen dagelijks stress in het leven. Dat is _____ volwassen Belgen.
3. Omdat heel veel toeschouwers met de auto naar het voetbalstadion van Utrecht waren gereden, moesten we onze auto _____ van dat stadion parkeren. We moesten dan nog ruim 2 kilometer naar het stadion van Utrecht lopen.
4. De handbaltrainer van HGC heeft in een brief aan de ouders van het handbalteam C2 geschreven dat hij verwacht dat alle spelers en begeleiders van dit team op zaterdag na het handbaltoernooi in Helmond weer om _____ 18.00 uur op de parkeerplaats van

handbalvereniging HGC zullen aankomen. Het kan dus wat vroeger of wat later worden.

5. Jullie moeten naar de visvijver? Nou, dan ga je over ongeveer 100 meter rechts een _____ weggetje in. Dat weggetje is zo'n 3 km lang, maar je moet wel achter elkaar fietsen, want meer ruimte dan 50 cm heb je daar niet om te fietsen.
6. Onze lerares Engels liet ons tijdens haar les een Engelstalig liedje horen. We kregen van haar de opdracht om aan het einde van dit liedje het aantal keer dat er "love" werd gezongen, te noteren. Om me beter op dit liedje te kunnen concentreren, _____ ik het woord "love". Aan het einde van het liedje hoefde ik alleen maar de streepjes te tellen. Ik had trouwens het aantal van dertien keer "love" goed.
7. Omdat Mohamed met ingang van volgende maand met een bijbaantje bij tuincentrum "Het Tuintje" begint, moest hij wel een _____ openen. Het geld dat hij daar verdient, wordt dan daarop overgemaakt.
8. In ons economieboek stond dat we eerst op bladzijde 13 de tweede en derde _____ moesten lezen voordat we de vragen 5 t/m 9 konden beantwoorden.
9. Wie in Deventer met zijn auto bij een parkeerautomaat parkeert, moet wel _____, want de parkeerautomaat geeft met ingang van 1 januari geen wisselgeld meer terug.
10. Kunt u een euro _____ in twee munten van 50 eurocent? Mijn vriend en ik hebben namelijk die muntjes van 50 eurocent nodig om gebruik te kunnen maken van twee winkelwagentjes bij die supermarkt.

Opdracht 6:

Vul de onderstaande zinnen op de juiste wijze aan!

1. Als je die zitbank door die deuropening naar de woonkamer wilt dragen en die deuropening is te smal dan _____

2. Als jij een artikel over het bezoek aan het Rijksmuseum in Amsterdam voor de website van je school schrijft en je verdeelt dat artikel in drie kolommen dan _____

3. Als je bij een popconcert vooraan wilt staan dan _____

4. Als je een bankrekening bij een bank hebt geopend dan _____

5. Als je een klassenfoto van klas OT26 maakt, moet je niet te veraf van die klas gaan staan, want dan _____

6. Als je wilt weten hoeveel auto's er op donderdag van 's morgens 06.00 uur tot 's avonds 18.00 uur langs het ijssportcentrum in Eindhoven komen, dan ga je bij het ijssportcentrum staan en dan _____

7. Als uit onderzoek blijkt dat 2 op de 3 ongevallen op het werk worden veroorzaakt door onoplettendheid dan _____

8. Als je mentor zegt dat je elke dag circa anderhalf uur met je huiswerk bezig moet zijn dan _____

9. Als jij een briefje van 50 euro wisselt in 5 briefjes van 10 euro dan _____

10. Als jij een frietje met een kroket van €3,35 met gepast geld betaalt dan _____

Deel B:

Opdracht 1:

Leer de onderstaande woorden!

11. **de klok loopt achter:** (de klok **liep achter** – de klok heeft **achtergelopen**): als een klok (een horloge, een wekker, e.d.) achterloopt dan is de tijd op die klok vroeger dan de echte tijd
- Op de klok in onze keuken is het tien voor half drie. De echte tijd is half drie. Die klok **loopt** dus 10 minuten **achter**.
12. **De klok loopt voor:** (de klok **liep voor** – de klok heeft **voorgelopen**): als een klok (een horloge, een wekker, e.d.) voorloopt dan is de tijd op die klok later dan de echte tijd
- Op de klok op de kerktoren in ons dorp is het kwart over vijf. De echte tijd is vijf uur. Die klok **loopt** dus een kwartier **voor**.
13. **het schrikkeljaar – de schrikkeljaren:** een schrikkeljaar is een jaar met 1 extra dag – een schrikkeljaar komt 1 keer in de 4 jaar voor – in een schrikkeljaar heeft februari geen 28 dagen, maar 29 dagen (een schrikkeljaar heeft geen 365 dagen, maar 366 dagen)
- **de schrikkelmaand** = _____
 - **de schrikkeldag** = _____
 - Het jaar 2024 heeft geen 365 dagen, maar 366 dagen. Dat komt doordat het jaar 2024 een **schrikkeljaar** is en februari 2024 geen 28, maar 29 dagen heeft.
14. **de eeuw – de eeuwen:** een eeuw is **honderd jaar**
- van het jaar 1300 tot het jaar 1400 = de veertiende **eeuw**
 - van het jaar 1600 tot het jaar 1700 = _____
 - van het jaar 1900 tot het jaar 2000 = _____
 - De overgrootmoeder van Leon is gisteren 100 jaar geworden. Ze heeft dus al een **eeuw** geleefd.
15. **het etmaal – de etmalen:** een etmaal duurt 24 uur (een dag en een nacht)

- Het snoepwinkeltje “het snoepje” op de luchthaven Schiphol is 24 uur geopend. Dus een **etmaal**. Dat betekent dat je daar altijd iets kunt kopen. Op welke tijd je er bent, maakt dus niet meer uit.

16. de rente – de rentes:

- a. rente is een extra bedrag (= een hoeveelheid geld) dat je moet betalen als je geld hebt geleend
- Je leent 1000 euro bij de bank en je betaalt die 1000 euro na een jaar terug. Over die 1000 euro moet je 10% **rente** betalen. Dan moet je na een jaar 1000 euro + 100 euro (= 10% **rente**) = 1100 euro terugbetalen aan de bank.
- b. rente is een extra bedrag (= een hoeveelheid geld) dat je krijgt als je geld op een (spaar)rekening bij een bank hebt staan
- Je hebt 1000 euro op een spaarrekening bij de bank en je haalt na een jaar die 1000 euro van de bank. Je krijgt 10% **rente**. Dan krijg je 1000 euro + 100 euro (10% **rente**) = 1100 euro van de bank.

17. achteraan: als iets achteraan is of jij bent achteraan dan is dat iets of jij op de laatste plaats, als laatste, aan het einde

- Als je in een rij **achteraan** staat dan ben je in die rij de laatste.

18. het tarief – de tarieven: de prijs – het tarief geeft aan hoeveel iets kost (als je van iets gebruik maakt (bijv. de Efteling) of als iemand iets voor je doet (bijv. een timmerman) – (niet van artikelen die in een winkel te koop zijn = de prijs)

- Op het internet kun je het **tarief** van een enkele reis met de trein van Eindhoven naar Amsterdam vinden: €27,50 moet je dan betalen.

19. de klok loopt gelijk: (de klok liep gelijk – de klok heeft gelijkgelopen): als een klok (een horloge, een wekker, e.d.) gelijkloopt dan geeft die klok de juiste tijd aan

- Als het op je horloge vijf voor half acht is en de juiste tijd is vijf voor half acht dan **loopt** je horloge **gelijk**.

20. halfvol: als iets halfvol is dan is dat iets voor de helft gevuld (voor de helft vol)

- Zit er nog limonade in die literfles Fanta? Ja hoor, er zijn maar twee glazen limonade uit geschonken. Die fles is nog **halfvol**.

Opmerking:

Je kunt in een winkel ook **halfvolle** producten tegenkomen. Deze producten zijn natuurlijk niet voor de helft gevuld. In **halfvolle** producten zoals melk, boter, yoghurt en mayonaise zit meer vet dan in **magere** producten en minder vet dan in **volle** producten.

Een voorbeeld:

In **volle** melk zit meer vet dan in **halfvolle** melk. In **halfvolle** melk zit meer vet dan in **magere** melk. In **magere** melk zit dus het minste vet.

Opdracht 2:

Hieronder staan plaatjes. Noteer onder die plaatjes het juiste woord of de juiste woorden! Kies uit de woorden die bij opdracht 1 staan!

Plaatje 1:



Plaatje 2:



Plaatje 3:



Plaatje 4:



Plaatje 5:



Plaatje 6:



De juiste tijd:



Plaatje 7

Plaatje 8

Plaatje 9

Plaatje 10

Toegangskarten zijn direct verkrijgbaar aan de kassa van het E3-strand. Voor regelmatige bezoekers is een abonnement de voordeligste keuze.

Dagkaart Strandpark E3

3 jaar en ouder	€ 5,00
Parkeren	€ 3,00

Strandbedden verhuur

Strandbed, per dag	€ 5,00
--------------------	--------

Abonnementen Strandpark E3*

3 jaar en ouder	€ 35,00
10x parkeren	€ 20,00

Een abonnement geeft recht op gratis toegang tot ons park, mits dit abonnement op moment van bezoek ook daadwerkelijk getoond kan worden. Als het abonnement is vergeten, dan dient de reguliere entreprijs betaald te worden en is teruggave van entreegeld achteraf niet mogelijk.

Groepen**	25-50 pers.	50+ pers.
3 jaar en ouder	€ 4,50	€ 4,00

Opdracht 3:

Beantwoord de onderstaande vragen en opdrachten op de juiste wijze!

1. In de schoolpauze laat een leerling uit de derde klas spectaculaire bewegingen van breakdance zien. Er staan heel veel leerlingen om deze breakdancer. Jij wilt die breakdancer ook zien, maar jij staat achteraan. Wat is hiervan het gevolg? Hoe kun je dat oplossen?

2. Hoe kun je controleren of je wekker gelijkloopt? _____

3. Wat kan het gevolg zijn als je horloge een kwartier achterloopt? ____

4. Is het erg als de klok in de woonkamer thuis tien minuten voorloopt en jij weet dat niet? Leg uit waarom? _____

5. Hoelang duurt het nog voordat iemand op 29 februari zijn verjaardag kan vieren? _____

6. Hoelang duurt het nog voordat de volgende eeuw begint? Hoe kom je aan je antwoord? _____
7. Hoeveel etmalen zijn er in de maand april? Leg je antwoord uit! ____

8. Heb jij liever een hoge of een lage rente? Leg je antwoord uit! _____

9. Wat is het rentetarief als je €10.000,00 een jaar op de bank laat staan? _____
10. Wat betekent het als tijdens een voetbalwedstrijd een voetbalstadion halfvol is? Wat kan hiervan de oorzaak zijn? Noem twee oorzaken! _____

Opdracht 4:

Zijn de onderstaande zinnen waar of niet waar? Noteer op de juiste wijze waar of niet waar achter elke zin!

1. Als een boekenkast halfvol is dan kunnen er altijd nog 50 boeken bij in die boekenkast.
2. Als je achteraan in de klas zit dan zit je dichtbij bij het schoolbord.
3. Als je 500 euro rente over je spaargeld krijgt dan moet je die 500 euro meteen op je spaarrekening storten.
4. Als een klok achterloopt dan loopt de kleine wijzer altijd sneller dan de grote wijzer.
5. Als een klok voorloopt dan is het later op die klok dan de echte tijd.
6. Als een jaar 366 dagen heeft, is dat een schrikkeljaar en dan heeft februari 29 dagen. Februari is dan de schrikkelmaand en 29 februari is dan de schrikkeldag.
7. Een eeuw heeft 100×365 dagen = 36500 dagen.
8. Een etmaal bestaat uit een morgen, een middag, een avond en een nacht.
9. Als een horloge gelijkloopt dan loopt de kleine wijzer even snel als de grote wijzer.
10. Als je de tarieven van zwembad "De Stappegoor" weet dan weet je op welke tijden dit zwembad geopend is.

Opdracht 5:

Hieronder staan zinnen. In die zinnen moeten de juiste woorden worden ingevuld. Kies uit de woorden van opdracht 1!

1. Kees: "Is het al 8 uur? Op mijn horloge is het pas zeven uur. Hoe kan dat nou?"
Adrie: "Heb je er wel aan gedacht dat vannacht de zomertijd is ingegaan? Dan gaat de klok een uur vooruit. Daar heb je dus niet aan gedacht."
Kees: "Nou, dan laat ik mijn horloge weer _____ en zet ik mijn horloge op de juiste tijd. Dus op acht uur."
2. Mijn vader en ik zijn met 2500 andere supporters van voetbalclub FC Utrecht met 50 bussen naar de wedstrijd Feyenoord – FC

Utrecht gegaan. Na deze wedstrijd moesten mijn vader en ik nog een heel eind lopen om bij onze bus te komen. Alle bussen stonden achter elkaar op een groot parkeerterrein en onze bus stond helemaal _____.

3. Als je een geldlening voor de aankoop van je nieuwe keuken nodig hebt, kun je het beste die geldlening bij de Rabo-bank afsluiten. Dan betaal je 1% minder _____ over het geleende bedrag dan bij andere banken.
4. Bauke is pas drie keer echt jarig geweest en hij is al dertien jaar. Hoe kan dat nu? Dat komt doordat Bauke in een _____ op 29 februari is geboren. En die dag heb je maar één keer in de vier jaar.
5. Lies: "Wil jij even die grote doos naar mijn auto dragen?"
Ad: "Is die doos niet te zwaar voor mij?"
Lies: "In die doos kunnen 20 pakken kopieerpapier. Er zitten maar 10 pakken in."
Ad: "Als die doos _____ is, kan ik hem wel even naar jouw auto dragen."
6. Femke is wel heel vroeg op haar tennisles. Die tennisles begint om vijf uur 's middags en toen ze thuis vertrok, was het half vijf op haar horloge. Met de bus doet Femke er ongeveer 20 minuten over om op haar tennisles te komen. Op het tennissportpark geeft de klok pas half vijf aan en niemand van haar club is er al. Daar kan maar één reden voor zijn: haar horloge _____ ongeveer 20 minuten _____.
7. Sinds gisterenmiddag vier uur is Gijsje van Linge (4 jaar) vermist. Niemand wist waar hij was. De politie, vele familieleden en buurtbewoners hebben in de omgeving naar Gijsje gezocht. Om precies 4 uur vanmiddag vond een neef van Gijsje Gijsje in een plantsoen achter het winkelcentrum. Gijsje was daar in slaap gevallen. Gijsje is dus een _____ vermist geweest.
8. Toen Willem vanmorgen van huis naar school vertrok, keek hij op de klok in de woonkamer en zag dat het kwart voor acht was. Na ongeveer een kwartier fietsen, kwam Willem op school aan en zag dat het op de schoolklok al tien voor half negen was. Hoe kan dat nou? Willem dacht na. Daar kan maar één reden voor zijn. De klok thuis in de woonkamer _____ 20 minuten _____.

9. Op het einde van de 20^e _____ kreeg de computer steeds meer invloed op het dagelijkse leven van de mensen. Steeds meer dingen worden vanaf die tijd door of met de computer gedaan.
10. Op de website van het schildersbedrijf "De Verfkwast" staat het uur _____ voor het inhuren van een schilder: €42,50.

Opdracht 6:

Vul de onderstaande zinnen op de juiste wijze aan!

1. Als je weet dat je horloge 10 minuten achterloopt en je wilt weten hoe laat het is dan kijk je op je horloge en _____
2. Als je horloge 25 minuten voorloopt en je staat om tien voor half acht op volgens je horloge dan sta je in werkelijkheid op om _____
3. In een schrikkeljaar kunnen meer mensen hun verjaardag op hun geboortedag vieren dan in een gewoon jaar, omdat _____

4. Als handbalclub HGC een eeuwfeest organiseert, dan wordt dit feest georganiseerd omdat _____
5. Als je met je klas op kamp gaat en je blijft vier etmalen op een kampeerboerderij en je komt dinsdagmorgen om 10 uur aan op die kampeerboerderij dan vertrek je met je klas vanaf die kampeerboerderij op _____
6. Als je rente wilt ontvangen dan _____

7. Als een leesboek 130 bladzijde heeft en je bent achteraan in dit leesboek gekomen met lezen dan ben je op bladzijde _____
8. Als je het posttarief weet voor het versturen van een pakket van 3 kilo dan _____
9. Het is handig als alle klokken, horloges, wekkers, e.d. gelijk zouden lopen, want _____
10. Als je in een restaurant een glas cola bestelt en je krijgt een glas cola dat halfvol is dan _____

Deel C:

Opdracht 1:

Leer de onderstaande woorden!

- 21. voor iets zijn:** als je voor iets bent dan vind je dat “iets” goed, je vindt dat dat “iets” moet gebeuren, je bent het ermee eens
- Jan **is voor** het plan om in de nieuwjaarsnacht alleen vuurwerk op één plaats in ons dorp door een professioneel bedrijf te laten afsteken. Er is dan veel minder overlast voor dorpsbewoners en er gebeuren veel minder ongelukken met vuurwerk. En je krijgt natuurlijk een mooie vuurwerkshow te zien.
- 22. tegen iets zijn:** als je tegen iets bent dan vind je dat “iets” slecht. Je vindt dat dat “iets” niet moet gebeuren, je bent het er niet mee eens
- Mijn buurvrouw **is tegen** de koopzondag in Leende. Ze vindt dat de winkels op alle andere dagen lang genoeg open zijn en zij vindt dat al het winkelpersoneel ook recht heeft op een vrije zondag.
- 23. de trede – de treden:** de treden van een trap zijn de vlakken waar je je voeten op zet als je via de trap naar boven of naar beneden gaat
- Elke **trede** van de twee trappen in de villa van meneer Giesbers heeft ledverlichting. Hierdoor loop je naar boven en naar beneden op **treden** die sfeervol en veilig zijn.
- 24. in werkelijkheid:** als “iets” in werkelijkheid is dan is dat “iets” in het echt zo, het is werkelijk zo
- Deze plattegrond van Best is op schaal 1:100 getekend. Dat betekent dat 1 centimeter op de kaart **in werkelijkheid** 100 centimeter is.
- 25. stijgen – stegen – gestegen:** als iets stijgt dan gaat dat “iets” omhoog, dat “iets” gaat naar boven of dat “iets” wordt meer of groter

- De heteluchtballon **steeg** gisterenavond langzaam vanaf het weiland van boer Harms naar een hoogte van 300 meter.
- De goudprijs is deze week naar recordhoogte **gestegen**: Vorig jaar was de prijs voor een kilo goud €2500,00 en nu €44000,00 per kilo goud.

26. dalen – daalden – gedaald: als iets daalt dan gaat dat “iets” naar beneden, dan zakt dat “iets” of dat “iets” wordt minder of kleiner

- Na een vliegtuigvlucht van drie uur vanaf Menorca (Spanje) **daalt** ons vliegtuig om op Eindhoven Airport te landen.
- Het aantal inwoners van Boekel is vorig jaar **gedaald**. Van 4786 naar 4598 inwoners.

27. toenemen – nam toe – namen toe – toegenomen: als iets toeneemt dan wordt dat “iets” meer of groter

- Het gebruik van mobiele telefoons is de laatste 15 jaar flink **toegenomen**. Steeds meer mensen zijn van de mobiele telefoon gebruik gaan maken.

Let op!

Van het werkwoord “**toenemen**” komt het zelfstandig naamwoord “**de toename**” = het meer worden, het groter worden

- **de toename** van het aantal inwoners in Nederland = _____
- **de toename** van de winst van dit metaalbedrijf = _____

28. afnemen – nam af – namen af – afgenomen: als iets afneemt dan wordt dat “iets” minder of kleiner

- De interesse onder jongeren van 12 tot 14 jaar om dagelijks buiten te spelen **neemt** al jaren **af**. Steeds minder jongens en meisjes van 12 tot 14 jaar spelen buiten, omdat ze liever andere dingen willen doen zoals gamen op de computer.

Let op!

Van het werkwoord “**afnemen**” komt het zelfstandig naamwoord “**de afname**” = het minder worden, het kleiner worden

- **de afname** van het verlies van deze trappenfabriek = _____

- de afname van het aantal werklozen = _____

29. **verbruiken – verbruikten – verbruikt:** als je iets verbruikt dan gebruik je het tot het op is (er is niets meer van over of je kunt het niet meer gebruiken)

- Omdat Harrie grote afstanden met zijn scooter rijdt, **verbruikt** hij veel benzine. Elke week moet hij wel 40 liter benzine tanken.

30. **de plaats van bestemming:** de plaats van bestemming is waar je naar toe wilt

- Na een lange autoreis van 12 uur vanuit Nederland zijn we eindelijk op **de plaats van bestemming** aangekomen: Milaan in Italië.

Opdracht 2:

Hieronder staan plaatjes. Noteer onder die plaatjes het juiste woord of de juiste woorden! Kies uit de woorden van opdracht 1!

Plaatje 1:



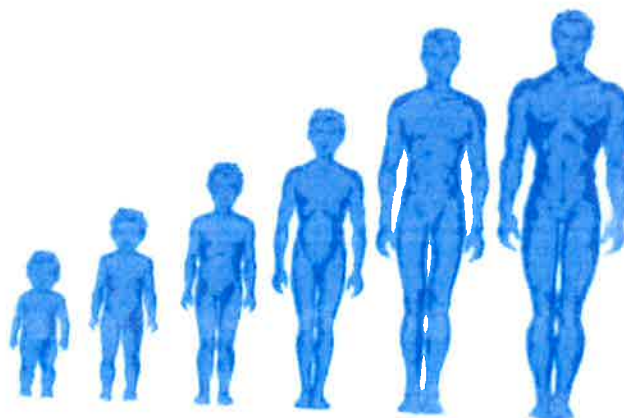
Plaatje 2:



Plaatje 3:



Plaatje 4:



Plaatje 5:



naar Haarlem...

Plaatje 6:



Plaatje 7:



Plaatje 8:



**Gestopt met roken?
Het gaat je lukken.
Succes**


Plaatje 9:



**€1,67
€1,84**



Plaatje 10;



Welke cirkel is groter? De bruine linkercirkel of de bruine rechtercirkel?

Opdracht 3:

Beantwoord de onderstaande vragen en opdrachten op de juiste wijze!

1. Wat is jouw plaats van bestemming als je op donderdagmorgen vertrekt van huis en je hebt geen vakantie? _____
2. Wat betekent de zin: "De spanning nam tijdens deze voetbalwedstrijd toe."? Hoe zou dan komen? _____

3. Noem vier dingen die jij gisteren hebt verbruikt! _____

4. John speelt in de film "de verandering" een dief, maar in werkelijkheid _____
5. Wat is het gevolg als de rente bij banken daalt? _____

6. Is het fijn voor volleybalvereniging Veros met 210 leden als het aantal leden in de maand november met 80 leden stijgt? Leg je antwoord uit! _____
7. Ben je voor langere pauzes hier op school? Waarom? _____
8. Ben jij tegen het voorstel om de lessen hier op school niet om half negen, maar om tien over acht te laten beginnen? Waarom? _____
9. Het metaalbedrijf van directeur Van Leeuwen heeft vorig jaar €60.000,00 verlies geleden. Dit jaar is dat verlies met €15.000, 00 afgenomen. Is het verlies nu groter of kleiner geworden? Leg je antwoord uit! _____
10. Wat is de hoogte tussen twee treden van een normale trap? _____

Opdracht 4:

Zijn de onderstaande zinnen waar of niet waar? Noteer op de juiste wijze waar of niet waar achter elke zin!

1. Als je voor meer fietspaden in Nederland bent dan vind je dat een goed plan en je vindt dat er dan meer fietspaden in Nederland moeten komen.
2. Als je een trap met twee treden tegelijk omhoog loopt, dan ga je sneller dan als je een trap met één trede tegelijk omhoogloopt.
3. Als er in een film in de bioscoop twintig mensen sterven (= doodgaan) dan gaan er in werkelijkheid maar twee mensen dood.
4. Als het water in een rivier stijgt dan komt dat water hoger in de rivier te staan.
5. Als je tegen strafwerk voor leerlingen op scholen bent dan vind je dat leerlingen op scholen wel strafwerk moeten krijgen als leerlingen zich niet aan de schoolregels houden.
6. Als de verkoop van vakantiewoningen afneemt, worden er meer vakantiewoningen verkocht.
7. Als je een fietstocht wilt maken van Best naar Den Bosch dan is de plaats van bestemming van deze fietstocht Den Bosch.

8. Als de rommel in ons schoolgebouw toeneemt dan is er steeds minder rommel in ons schoolgebouw.
9. Als de temperatuur daalt dan wordt het kouder.
10. Als je 15 tubes tandpasta per jaar verbruikt dan gebruik je in een jaar al de tandpasta, die in deze 15 tubes zit, tot die tandpasta helemaal op is.

Opdracht 5:

Hieronder staan zinnen. In die zinnen moeten de juiste woorden worden ingevuld. Kies uit de woorden van opdracht 1!

1. Een vaatwasser _____ gemiddeld twee keer zoveel energie als een afwasbeurt met de hand, behalve als je onder een lopende kraan afwast.
2. Het aantal ingeschreven studenten op universiteiten en hogescholen in Nederland _____ in de laatste 10 jaar _____: van 215.000 in het jaar 2008 tot 260.000 in het jaar 2018.
3. Alex _____ het slachten van dieren om gegeten te worden. Hij vindt dat je geen dieren mag eten en daarom doet hij dat zelf ook niet. Alex is al jaren vegetariër. Dieren hebben net zoals mensen gevoel en dat gevoel mag je de dieren nooit afnemen door ze te slachten en daarna op te eten, aldus Alex.
4. Doordat het nu al een tijdje beter met de economie gaat, _____ het aantal werklozen _____: van 590.000 in 2013 tot 435.000 in het jaar 2018.
5. Natalia heeft haar enkel verzwikt. Ze liep thuis van de overloop via de trap naar beneden. Ze dacht dat ze al beneden was, maar moest nog twee _____. Hierdoor kwam ze een stuk lager op de grond dan ze had gedacht en daarbij klapte haar enkel om.
6. Natuurlijk _____ ik _____ een rookverbod in de horeca (= hotel, restaurant, café). Overal waar je buitenshuis iets wilt eten of drinken, moet het rookvrij zijn. Het is toch slecht voor je gezondheid als je de tabaksrook van anderen moet inademen. Ik vind dat dat niet kan.
7. Op 10-jarige leeftijd kreeg de Amerikaanse Sara Geurt te horen dat ze een zeldzame ouderdomsziekte heeft. Het gevolg is dat haar

huid veel sneller slapper wordt waardoor ze op jonge leeftijd al vele rimpels heeft en er dus veel ouder uitziet. Sara ziet eruit als een vrouw van ongeveer 55, maar _____ is ze pas 26.

8. Het heeft vannacht flink gestormd. Gelukkig _____ de wind vanmorgen _____. Het waait dus al een stuk minder hard.
9. Aan het begin van elk schooljaar gaan de leerlingen van leerjaar 1 van het vmbo van onze school op kamp. Ze vertrekken vanaf school met de fiets. _____ is dan kampeerboerderij "het kalfje" in Bladel waar ze dan vier dagen blijven.
10. Als je vaak grotere afstanden fietst dan _____ de spiermassa in je benen _____. Je krijgt meer en sterkere beenspieren.

Opdracht 6:

Vul de onderstaande zinnen op de juiste wijze aan!

1. Als je ervoor bent dat alle leerlingen bij ons op school na schooltijd de school moeten gaan poetsen, dan _____
2. Als je ertegen bent dat kinderen in groep 3 en 4 op de basisschool Engelse les krijgen, dan _____
3. Een trap heeft 23 treden. Je loopt via die trap naar boven. Je zet op elke trede je linker- of rechervoet. Ik kom boven nadat ik _____
4. Heel wat buitenlanders denken dat alle Nederlanders behoorlijk rijk zijn, maar in werkelijkheid _____
5. Als hockeyclub Geel-Zwart drie plaatsen op de ranglijst stijgt dan _____
6. Als een helikopter daalt dan _____
7. Als je eigen gewicht in een maand met 12 kilo afneemt dan _____
8. Als de lichaamslengte van je broertje van 10 het afgelopen jaar met 2 centimeter is toegenomen dan _____
9. Als je elke morgen 20 minuten onder de douche staat dan verbruik je _____

10. Vanuit het hoofdmagazijn van Jumbo in Veghel rijden vele volgeladen vrachtauto's naar hun plaats van bestemming. Die plaatsen van bestemming zijn _____

Deel D:

Opdracht 1:

Leer de onderstaande woorden!

31. het kwartaal – de kwartalen: een kwartaal is een periode van 3 maanden (achter elkaar)

Let op! In het woord **kwartaal** staat het woord **kwart**. Een **kwartaal** is een **kwart** (= een vierde deel) van een jaar = 3 maanden.

- het eerste **kwartaal** van een jaar loopt van januari t/m maart
- het tweede **kwartaal** van een jaar loopt van _____
- het derde **kwartaal** van een jaar loopt van _____
- het vierde **kwartaal** van een jaar loopt van _____
- Onze buurman betaalt het dagblad "Trouw" ieder **kwartaal**. Er wordt dus elke drie maanden geld van zijn rekening afgeschreven om het dagblad "Trouw" te betalen.

Let op!

Een **kwartaal** heeft **13** weken. Vier **kwartalen** = 4 keer 13 weken = 52 weken = 1 jaar.

32. het voordeel – de voordelen: een voordeel is iets waardoor je in een gunstigere positie (= situatie) bent of komt

- gunstiger = beter, prettiger, minder te betalen, sterker, sneller, fijner, mooier, je behaalt meer winst, e.d. (positiever)
- Een papieren luier heeft **het voordeel** dat je die luier niet meer hoeft te wassen. Dat wassen van zo'n poepluier is niet zo'n leuk werk.

33. het nadeel – de nadelen: een nadeel is iets waardoor je in een ongunstigere positie (situatie) bent of komt

- ongunstiger = slechter, vervelender, meer te betalen, langzamer, zwakker, lelijker, je lijdt verlies, e.d. (negatiever)
- Een papieren luier heeft **het nadeel** dat je die luier maar één keer kunt gebruiken.

Let op!

Wat is het **voordeel** en wat is het **nadeel**?

a. Je rijdt met de fiets van school naar huis:

- een **voordeel** is: _____

- een **nadeel** is: _____

b. Je rijdt met de bus van school naar huis:

- een **voordeel** is: _____

- een **nadeel** is: _____

c. Het is al laat. Je fietst naar school. Je wilt op tijd op school zijn. Je hebt wind tegen. Is dat een **voordeel** of een **nadeel**? _____

Waarom? _____

d. Je hebt honger. Waar ga je eten? Thuis of in een restaurant?

Noem een **voor-** en **nadeel** van thuis eten en van in een restaurant eten!

- thuis: **voordeel**: _____ **nadeel** _____

- in restaurant: **voordeel**: _____ **nadeel** _____

e. Je komt op school en ziet dat het laatste lesuur Engels uitvalt.

Noem hiervan een **voor-** en een **nadeel**! **Voordeel**: _____

Nadeel: _____

f. Je broer en jij kopen allebei een zak "autodrop". Je broer bij Albert Heijn en jij bij de Aldi. Je broer betaalt € 1,12 en jij betaalt € 0,98 voor dezelfde zak drop. Wie heeft hier **voordeel** en wie heeft hier **nadeel**? Waarom? _____

34. verplaatsen – verplaatste(n) – verplaatst:

a. als je iets verplaatst dan zet je het van de ene plaats op de andere plaats

- Als je een tafel van de keuken in de woonkamer zet dan **verplaats** je die tafel, want je zet die tafel op een andere plaats.

b. als je iets verplaatst dan gaat het op een ander tijdstip plaatsvinden dan het gepland is

- Als een afspraak bij de tandarts niet op dinsdag doorgaat, maar wel op donderdag dan wordt die afspraak dus van dinsdag naar donderdag **verplaatst**.

- 35. de vertraging – de vertragingen:** als iets of iemand vertraging heeft dan gaat dat “iets” of “die persoon” langzamer of komt later dan je verwacht (of gepland hebt). In het woord **vertraging** hoor je het woord “traag”. **Traag** betekent **langzaam**.
- De trein van Amsterdam naar Eindhoven heeft een **vertraging** van 8 minuten. Die trein komt dus 8 minuten later in Eindhoven aan dan gepland is.

- 36. het bankbiljet – de bankbiljetten:** een bankbiljet is een gedrukt stukje papier waarmee je kunt betalen: papiergeld
- Werner moest €80,00 betalen bij de Gamma. Hij betaalde met 4 **bankbiljetten** van 20 euro.

Let op!

Je hoort in het Nederlands mensen ook het volgende zeggen:

- een briefje van 20 euro = een bankbiljet van 20 euro
- een briefje van 10 euro = _____
- een briefje van 50 euro = _____

- 37. de munt – de munten:** een munt is een rond en behoorlijk dun stuk geld van metaal (**het muntgeld**)
- Het eurogeld heeft **munten** van 1, 2, 5, 10, 20 en 50 eurocent en **munten** van 1 en 2 euro.

- 38. ten hoogste:** als je ten hoogste gebruikt dan bedoel je niet meer dan, niet hoger dan, niet langer dan
- Ik kan **ten hoogste** maar tot twee uur blijven, omdat ik om half drie een afspraak bij de bank heb. Om twee uur moet ik dus hier weg.

- 39. ten minste:** als je ten minste gebruikt dan bedoel je niet minder dan, niet lager dan, niet korter dan
- Ik ga deze fiets verkopen. Ik wil er **ten minste** 60 euro voor krijgen anders verkoop ik die fiets niet. Voor minder dan 60 euro blijft die fiets gewoon van mij.

- 40. de route – de routes of de routen:** de route is de weg die je moet volgen om ergens te komen

- Als je de kortste route van Eindhoven naar Amsterdam met de auto rijdt dan rijdt je van Eindhoven naar Den Bosch. Van Den Bosch naar Utrecht en van Utrecht naar Amsterdam.

Opdracht 2:

Hieronder staan plaatjes. Noteer onder die plaatjes het juiste woord of de juiste woorden! Kies uit de woorden die bij opdracht 1 staan!

Plaatje 1:



Plaatje 2:



Plaatje 3:



Plaatje 4:

Gewijzigde prijzen voor PlayStation³Plus
Vanaf 00:01 uur BST op 31 augustus 2017 wijzigen wij onze prijzen voor PlayStation³Plus.

- De prijs op jaarbasis verandert van €49,99 naar €59,99 per jaar.
- De prijs op kwartaalbasis verandert van €19,99 naar €24,99 per kwartaal.
- De prijs op maandbasis verandert van €6,99 naar €7,99 per maand.

per dag 2 maal

Plaatje 5:



Plaatje 6:



Plaatje 7:



Plaatje 8:



Plaatje 9:



Plaatje 10:



Opdracht 3:

Beantwoord de onderstaande vragen en opdrachten op de juiste wijze!

1. Het is 3 februari. Een neef van je heeft jou gevraagd om vanaf het volgende kwartaal zijn krantenwijk over te nemen. Je doet dat. Wanneer begin je met die krantenwijk? _____
2. Waar heb jij wel eens voordeel van gehad? Hoe kwam dat? _____

3. Waar heb jij wel eens nadeel van gehad? Hoe kwam dat? _____

4. Noem drie grotere voorwerpen (= dingen) die je het afgelopen jaar verplaatst hebt! Vertel ook waarom je die voorwerpen verplaatst hebt! _____

5. Noem drie oorzaken van vertragingen! _____

-
6. Welke bankbiljetten heeft het euro-geld? _____
 7. Een bankbiljet van 5 euro kun je wisselen in muntgeld. Noem drie verschillende manieren waarop je die 5 euro in muntgeld kunt wisselen? _____
 8. Als ik jou vraag om me even te helpen met een klusje en ik zeg: "Dit klusje duurt ten hoogste 10 minuten." Je reageert en je zegt: "Ik help je." Hoelang moet jij me dan precies helpen met dat klusje? _____
 9. Als Erik volgende week een feest geeft en hij zegt tegen jou dat er ten minste 30 gasten komen. Weet jij dan hoeveel gasten er precies komen? Leg je antwoord uit! _____
 10. Beschrijf de kortste route vanaf het lokaal waar je nu zit naar de sportzaal van onze school! _____
-

Opdracht 4:

Zijn de onderstaande zinnen waar of niet waar? Noteer op de juiste wijze waar of niet waar achter elke zin!

1. Het derde kwartaal van dit jaar heeft als eerste dag 1 juli en als laatste dag 30 september.
2. Als je in een supermarkt voordeel hebt dan moet je extra betalen.
3. Als je kleine broertje jou telkens iets komt vragen als jij je huiswerk aan het maken bent en hierdoor kun jij je niet goed op je huiswerk concentreren dan heb je hiervan nadeel.
4. Als je een brandende kaars, die op de vensterbank staat, op de salontafel in de huiskamer zet dan verplaats je die brandende kaars.
5. Als een vlucht met een vliegtuig vertraging heeft dan is dat vliegtuig later op de plaats van bestemming dan gepland is.
6. Bankbiljetten kun je alleen bij de bank kopen.
7. In verkoopautomaten voor snacks, snoep en frisdrank kun je alleen maar muntgeld werpen.

8. Als je volgens de bijsluiter van dit medicijn ten hoogste drie pillen per dag tegen diarree mag innemen dan moet je drie pillen per dag innemen volgens de bijsluiter.
9. Als je wilt pinnen bij banken dan moet je ten minste voor 10 euro pinnen.
10. Met een route kun je de juiste weg vinden als je verdwaald bent.

Opdracht 5:

Hieronder staan zinnen. In die zinnen moeten de juiste woorden ingevuld worden. Kies uit de woorden van opdracht 1!

1. De ontvoeders van de dochter van multimiljonair meneer Heeskens eisten één miljoen euro van meneer Heeskens voor de vrijlating van zijn dochter. Die één miljoen euro moest in _____ van 10, 20 en 50 euro in een koffertje gedaan worden en dat koffertje moest op dinsdagavond om zeven uur op de hoek van de Sluisstraat en Dwarsstraat in Geldrop neergezet worden.
2. De gemeente heeft in ons dorp een speciale _____ aangegeven voor vrachtauto's die gevaarlijke stoffen vervoeren zoals chloor en zoutzuur. Deze auto's moeten over de rustige wegen om de bebouwde kom heen naar het industrieterrein "de Gazel" rijden. Dit alles voor de veiligheid van alle inwoners van ons dorp.
3. Bij het spel darts kun je in één beurt _____ 180 punten gooien. Meer punten kun je dan niet gooien.
4. "Attentie, attentie! Voor de ingang van de sporthal staat een groene auto van het merk Audi. Wil de eigenaar van deze auto deze auto zo snel mogelijk _____ naar het parkeerterrein zodat de ingang van de sporthal altijd goed bereikbaar blijft voor de hulpdiensten zoals de brandweer en het ambulancepersoneel."
5. Op het IT-bedrijf waar de vader van Hans werkt, krijgen alle medewerkers elk _____ een beoordelingsgesprek met de directeur van het bedrijf. In zo'n gesprek, dat dus vier keer per jaar plaatsvindt, horen alle personeelsleden hoe goed of hoe slecht ze gepresteerd hebben.
6. Als je van rust en de natuur houdt dan woon je in een klein dorp heel erg prettig. Daar is het rustig en in de omgeving is veel natuur

te vinden. Toch zijn er ook _____ om in een klein dorp te wonen. Er zijn weinig winkels en kinderen die naar het voortgezet onderwijs gaan, moeten langer reizen om op school te komen.

7. _____ van de fiets boven een scooter zijn dat een fiets goedkoper dan een scooter is en dat je op een fiets gezonder bezig bent dan op een scooter.
8. Doordat er niet genoeg bouwvakkers zijn om de nieuwe woonwijk "de Geuzel" te bouwen, is deze woonwijk niet over twee jaar, maar pas over drie jaar klaar. Dat is dus volgens planning een _____ van een jaar voordat alle woningen van "de Geuzel" kunnen worden opgeleverd.
9. In de Efteling wordt ieder jaar de Wensbron leeg gemaakt. De bezoekers van dit attractiepark kunnen euro _____ in de Wensbron gooien en een wens doen. De afgelopen maand is er 420 kilo aan _____ uit de Wensbron gehaald. Totaal: €13.675,55. De euro _____ van 10 en 20 cent zijn het meest in de Wensbron gegooid.
10. Als je van het VMBO naar niveau 4 van het MBO wilt gaan dan moet je _____ een diploma TL (of mavo) hebben gehaald. Lagere niveaus worden niet tot niveau 4 toegelaten.

Opdracht 6:

Vul de onderstaande zinnen op de juiste wijze aan!

1. Als Loes op 15 december wordt geboren, krijgen haar ouders in de eerste week van het volgende kwartaal kinderbijslag. De ouders van Loes ontvangen die kinderbijslag dus in _____
2. Je spreekt van een voordeel als je leraar Nederlands _____

3. Een nadeel met het rijden van een grote personenauto is _____

4. Als de Europese kampioenschappen atletiek niet in juni plaatsvinden, maar worden verplaatst dan _____
5. Als een postpakketje vandaag bij jou thuis bezorgd zou worden, maar die bezorging heeft veel vertraging opgelopen dan _____

-
6. Als een bankbiljet helemaal doormidden is gescheurd dan _____
-
7. Een winkelier kan bij iedere bank maximaal 300 rollen muntgeld bestellen. Na vijf dagen kunnen die rollen opgehaald worden en als _____
-
8. Als er in een lift ten hoogste 10 volwassen mensen mogen en er staan 14 volwassenen voor die lift te wachten om er gebruik van te maken dan _____
9. Als er tijdens overstromingen in Azië ten minste 26 personen zijn overleden (dood zijn gegaan) dan weet je dat _____
10. Met een routeplanner op het internet kun je _____
-

Deel E:

Opdracht 1:

Leer de onderstaande woorden!

- 41. hemelsbreed:** als twee plaatsen hemelsbreed van elkaar liggen dan is dat de kortste afstand (= hoever ze van elkaar liggen) tussen die twee plaatsen in een rechte lijn
- Als Eindhoven en Utrecht **hemelsbreed** 76 kilometer van elkaar liggen dan heeft een rechte lijn van Eindhoven naar Utrecht een afstand van 76 kilometer. De afstand over de weg is langer omdat er bijvoorbeeld bochten in de weg zitten die de afstand langer maken. De echte afstand is dan ook 92 kilometer.
- 42. Het volume – de volumen of de volumes:** het volume is hetzelfde als de inhoud: het volume of de inhoud van een voorwerp (= ding) is wat er in dat voorwerp zit of kan
- **Het volume** van deze prullenbak is 60 liter. Er kan dus voor 60 liter aan afval in deze prullenbak gegooid worden. Dan is die prullenbak vol.
- 43. Het saldo – de saldo's of de saldi:** het saldo is het verschil tussen de hoeveelheid geld dat je uitgeeft en dat je ontvangt (op bijv. je bankrekening kun je het saldo zien staan)
- Als je in de maand maart met je bijbaantje €250,00 verdient en je geeft in die maand €175,00 aan bioscoopbezoeken, nieuwe kleren, computergames en een nieuwe rugtas uit dan is **het saldo** over de maand maart €250,00 min €175,00 is €75,00.

Let op!

- Een positief saldo : je ontvangt meer geld dan je uitgeeft
- Een negatief saldo: je geeft meer geld uit dan je ontvangt

- 44. afgeprijsd:** (komt van het werkwoord “afprijzen”): als een artikel (een product) afgeprijsd is dan is de prijs voor dat artikel (product) verlaagd (lager, goedkoper)

- Gisteren kostte bij het Kruidvat de Axe-deodorant nog €4,10.
Vandaag is deze Axe-deodorant bij het Kruidvat **afgeprijsd**. Je betaalt er nog maar €3,15 voor.

45. de aanbieding – de aanbiedingen: als een artikel in de aanbieding is, kun je tijdelijk (= voor een tijdje – bijv. voor een dag, twee dagen, een week of een andere kortere tijd) dat artikel voor een lagere prijs dan normaal kopen

- Als de “Pizza-Fromage” bij pizzeria “Pizza Pronto” op vrijdag in de **aanbieding** is dan betaal je op vrijdag minder dan normaal voor deze pizza. Je betaalt dan geen €8,00 maar slechts €5,50.

46. de aankomsttijd – de aankomsttijden: de aankomsttijd is de tijd waarop een vervoermiddel (o.a. tram, trein, bus, vliegtuig, boot), dat een dienstregeling (= de vaste tijden waarop bussen, treinen, boten, vliegtuigen, trams e.d. rijden, vliegen of varen) of een planning volgt, ergens aankomt

- Als je met de trein van Eindhoven naar Amsterdam reist en je vertrekt om 13.10 uur en die reis duurt één uur en 25 minuten dan is **de aankomsttijd** in Amsterdam 14.35 uur.

47. aflossen (van geld): ik los af – ik loste af – ik heb afgelost:
aflossen = afbetalen: als iemand zijn schuld of geldlening aflost dan betaalt die persoon die schuld of geldlening in één keer of in meer keren terug

- Wanneer je €7500,00 bij een bank leent dan moet je dat geld ook terugbetalen. Dat doe je dan bijv. per maand. Je betaalt dan elke maand bijv. 125 euro en je gaat daarmee door tot je het gehele bedrag terug hebt betaald. Ook moet je dan de rente die de bank hiervoor vraagt, terugbetalen. Dit noemen we het **aflossen** van een geldlening.

48. het bijbaantje – de bijbaantjes: als je een bijbaantje hebt dan werk je bijv. 8 of 10 of 15 uur per week naast je gewone baan, naast je studie of naast je school

- Joris (17) volgt de opleiding tot timmerman op het MBO en bezorgt daarnaast 's morgens het Eindhovens Dagblad bij zo'n 400 wo-

ningen in Geldrop. Met dit **bijbaantje** verdient hij €275,00 per maand.

49. bruto: als "iets" bruto is dan is dat "iets" met de onkosten (= geld dat je hebt uitgegeven om iets te kunnen doen), met belastingen of met de "verpakking" erbij

- brutogewicht = _____

- brutosalaris = _____

- brutoprijs = _____

- brutowinst = _____

- Jan werkt in een supermarkt. In zijn contract staat dat hij €2400,00 per maand verdient, maar op zijn bankrekening krijgt hij €1825,00. Die €2400,00 is het **brutosalaris** van Jan. Daar moeten nog alle belastingen over betaald worden en dan houdt Jan nog €1825,00 over.

50. netto: als iets "netto" is dan is dat "iets" zonder onkosten, zonder belastingen of zonder "verpakking"

- nettogewicht = _____

- nettosalaris = _____

- nettoprijs = _____

- nettowinst = _____

- Dit glazen potje met bonen weegt 450 gram, maar zonder dat glazen potje en zonder het water in het potje wegen die bonen nog maar 275 gram. Dat is het **nettogewicht** van die bonen.

Opdracht 2:

Hieronder staan plaatjes en tekst. Noteer onder die plaatjes en tekst het juiste woord of juiste woorden! Kies uit de woorden die bij opdracht 1 staan!

Plaatje 1:



Plaatje 2:



Plaatje 3:

Donna rijlaarzen

van ~~€ 89,95~~ voor

€ 69,95!



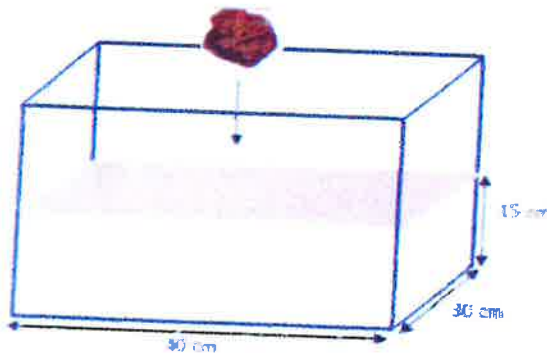
Plaatje 4:

Mogelijke reistijden

Vertrek	Aankomst	Overstap	Reistijd
10:49	12:09	1	1:20
11:19 +14*	12:39 +6	2	1:12
11:49 +1	13:09	1	1:19
12:19	13:39	2	1:20
12:49	14:09	1	1:20

Eerder ↑
Later ↓

Plaatje 5:



Plaatje 6:

In 12 maanden terug te betalen
door mevrouw Rekers

Schuld bij de bank...	Bank brengt 8% per jaar in rekening	Mevrouw Rekers betaalt elke maand...
€5000,00	€400,00	€450,00

Plaatje 7:
**HOEVEEL VERDIENT AUTOMONTEUR
 EVERT HERTMANS PER MAAND?**

In zijn contract staat...	Evert betaalt aan de belasting...	Evert krijgt op zijn bankrekening....
€2800,00	€900,00	€1900,00



Boerenkool

gewicht

Plaatje 8:



Plaatje 9:



gewicht

Plaatje 10:

OVERZICHT INKOMSTEN EN UITGAVEN OVER DE MAAND JUNI VAN MENNO SLEUTJES

INKOMSTEN		UITGAVEN	
salaris	€2100	huur woning	€610
belastingteruggave	€140	verzekeringen	€411
		gas + licht	€ 70
		boodschappen	€425
		telefoon/internet	€ 27
		auto	€ 95
		abonnement	€ 45
		sport	€ 30
		kleding	€ 65
Totaal:	€2240	Totaal:	€1778

Inkomsten: €2240

Uitgaven: €1778

€ 462 over

Opdracht 3:

Beantwoord de onderstaande vragen en opdrachten op de juiste wijze!

1. Bereken met behulp van het internet de afstand tussen Eindhoven en Breda hemelsbreed en deze afstand over de weg! _____
2. Hoe kun je het volume van je eigen lichaam berekenen! _____

3. Is het belangrijk om elke week je saldo op je ov-chipkaart te controleren als je elke schooldag met de bus reist? Waarom? _____

4. Waarom worden artikelen afgeprijsd? Noem twee redenen! _____

5. Waarom zou bakkerij "Het Broodje" op maandag altijd aanbiedingen hebben? Noem twee redenen! _____

6. Zoek met behulp van het internet op wat de eerste vertrektijd na 09.00 uur vanuit Hoek van Holland is en de aankomsttijd in Harwich als je met de veerboot vanuit Hoek van Holland naar Harwich vaart! _____
7. Wat betekent het als je na drie jaar een schuld van €12.500,00 volledig hebt afgelost? _____
8. Mag iedereen een bijbaantje hebben? Leg je antwoord uit! _____

9. Leg uit wat jouw brutogewicht is! _____
10. Het verhuisbedrijf "Vlug en goed", waar de vader van Mark werkt, heeft een nettowinst van €650.000,00 over het vorige jaar behaald. Leg uit wat dat betekent! _____

Opdracht 4:

Zijn de onderstaande zinnen waar of niet waar? Noteer op de juiste wijze waar of niet waar achter elke zin!

1. Als een weiland hemelsbreed is dan is dat weiland zo breed dat je, als je op dat weiland staat, het einde van dat weiland niet kunt zien.
2. Als je een ballon opblaast dan wordt het volume van die ballon steeds groter totdat die ballon klapt.
3. Als je een saldo maakt dan maak je een sprong in de lucht waarbij je voeten over je hoofd gaan waarna je weer met je voeten op de grond komt.
4. Elk artikel dat is afgeprijsd, is altijd een euro goedkoper.
5. Als de appels bij supermarkt Jumbo alleen op woensdag en donderdag in de aanbieding zijn dan betaal je op woensdag en donderdag minder voor die appels dan normaal (dus op de andere dagen).
6. De aankomsttijd duurt altijd langer dan de reis met bijv. de bus, de tram, de trein, de boot of het vliegtuig.

7. Je leent bij de bank €225.000,00 voor het kopen van een huis. Deze hypotheekschuld los je in 30 jaar af. Dat betekent dat je dan elke maand geld aan de bank terugbetaalt tot die €225.000,00 en de verplichte rente helemaal zijn terugbetaald. Dat doe je dus 30 jaar lang.
8. Als jij een bijbaantje hebt als vakkenvuller bij supermarkt Plus dan werk je bijv. op zaterdag bij Plus naast je school.
9. Als een bedrijf een brutowinst van €2.500.000,00 over het vorige jaar heeft behaald dan houdt dat bedrijf geen €2.500.000,00 over want over dat bedrag moet nog belasting worden betaald.
10. Als je netto verdient dan verdien je elke maand steeds iets minder.

Opdracht 5:

Hieronder staan zinnen. In die zinnen moeten de juiste woorden ingevuld worden! Kies uit de woorden van opdracht 1!

1. Bij de Hema zijn tijdens het laatste uur voordat de winkel sluit alle versproducten _____. Je betaalt dan voor al die versproducten een lagere prijs.
2. We gaan op de vrijdag voor Kerstmis met de bus op wintersport naar Frankrijk. We vertrekken 's avonds om 20.00 uur en dan is de geplande _____ 's morgens om 08.30 uur in Frankrijk. Dan kunnen we direct naar ons hotel en om 09.30 uur staan we op de piste om heerlijk te skiën.
3. Het _____ van de laadruimte van deze vrachtauto is zo groot dat er 40 wasmachines, 35 afwasmachines en 30 grote koelkasten in vervoerd kunnen worden.
4. Bij groothandel Makro zijn alle artikelen voorzien van een kaartje met daarop de _____ prijs. Dat betekent dat als je er een artikel koopt je nog 21% BTW (= belasting) erbij moet betalen.
5. Maartje heeft aan het einde van haar studie rechten een studieschuld van €24000,00. Ze betaalt die studieschuld in 5 jaar terug. Elke maand _____ Maartje een stukje van haar studieschuld _____ door €400,00 terug te betalen.

6. Het _____ minimumloon van iemand die 23 jaar of ouder is, is ongeveer €1600,00 per maand. Daar houdt hij of zij €1400,00 per maand van over nadat hij of zij hierover alle belastingen heeft betaald.
7. Het is _____ maar ruim 4 kilometer van Vierlingsbeek naar Afferden in de provincie Limburg. Vierlingsbeek ligt aan de ene kant van de rivier de Maas en Afferden aan de andere kant van de Maas. Maar als je van de ene plaats naar de andere plaats over de gewone weg wilt fietsen, ben je veel langer onderweg, want over de gewone weg is het bijna 25 kilometer van Vierlingsbeek naar Afferden. Wanneer je via de pont bij Bergen van Vierlingsbeek naar Afferden fietst, is dat bijna 6,5 kilometer.
8. Medewerkers van buurtvereniging “de Geeuw” hebben afgelopen zaterdag een sportdag voor alle kinderen in de leeftijd van 6 t/m 14 jaar georganiseerd. Er deden 250 kinderen mee die per persoon €2,50 hebben betaald. Totale kosten voor deze sportdag : huren van spelmateriaal €275,00 + het huren van de geluidsinstallatie €75,00 + drinken voor de kinderen €60,00 en de te winnen medailles €125,00. Dat betekent het volgende: Ontvangen: €625,00. Uitgegeven: €535,00. Een positief _____ van €90,00.
9. In de doe-het-zelf-zaak Gamma zijn deze week boormachines van het merk Black en Decker in _____. Alleen deze week betaal je voor deze boormachines geen €175,00 maar €115,00.
10. Zonder _____ is het voor veel eerstejaarsstudenten op het HBO en de universiteit onmogelijk om te kunnen studeren. Studenten zeggen dat ze zo'n 515 euro per maand moeten bijverdienen naast hun studie om alles te kunnen betalen. Veel studenten werken dan ook in de horeca, in de zorg, in de schoonmaak, in supermarkten en bezorgen dagbladen en folders.

Opdracht 6:

Vul de onderstaande zinnen op de juiste wijze aan of in!

1. Je kunt met een _____ en met een _____ hemelsbreed reizen, omdat _____,

- maar met een _____ en met een _____ kun je niet hemelsbreed reizen, omdat _____
2. Het volume van een koffer bereken je door _____
 3. Als je het saldo, dat nog op een cadeaubon staat, controleert dan weet je _____
 4. Als Albert Heijn alle producten, die bijna de houdbaarheidsdatum bereikt hebben, heeft afgeprijsd dan kun je die producten _____
 5. Als de tandpasta van het merk Elmex bij Action op dinsdag in de aanbieding is dan _____
 6. Als een vliegtuig tijdens zijn vlucht vanuit Ankara (Turkije) naar Schiphol in Nederland 30 minuten vertraging heeft dan zal de verwachte aankomsttijd _____
 7. Als je met een gewonnen geldprijs in de Staatsloterij een geldlening helemaal aflost dan _____
 8. Als je 15 jaar bent, mag je als bijbaantje _____ en _____, maar niet _____ en geen _____
 9. Een kist weegt 2 kilo. In die kist zitten 25 kilo aardappelen. Het brutogewicht van die kist met aardappelen is _____
 10. Het netto-inkomen van een gezin is het geld dat _____

Plaatje 4:



Waar zitten de mensen in deze zaal naar wie de pijltjes wijzen?

Plaatje 5:



Plaatje 6:



Plaatje 7:



Het is 4 uur.


Plaatje 8:



Plaatje 9:



Plaatje 10:



Plaatje 11:



Plaatje 12:



volwassenen

Plaatje 13:



Zo klein?

In 't echt...

Plaatje 14:



Plaatje 16:



Plaatje 18:



Plaatje 15:



Plaatje 17:



Plaatje 19:



Plaatje 20:

soort spaar- rekening	maximaal	basis	bonus
beleggers- spaarrekening	4%	2%	2%
royaal spaar- rekening	2,5%	2%	0,5%
jongeren- spaarrekening	2%	2%	n.v.t.

Plaatje 21:



Plaatje 22:



Plaatje 23:



Plaatje 24:



elektra



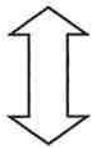
Plaatje 25:



Plaatje 26:



Plaatje 27:



Plaatje 28:



Plaatje 29:



Plaatje 31:



Waar zitten die drie kleine kinderen in deze zaal?

Plaatje 30:



Plaatje 32:



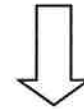
Plaatje 33:

Datum afschrift	Volgnummer	Bladnummer
19-08-2010	0158	0001
Vorig afschrift	Vorig saldo	
12-08-2010	2.345,67 CR	
Nieuw afschrift	Nieuw saldo	
19-08-2010	3.234,24 CR	
Kredietmaximum		
1.000,00		
Totaal afgeschreven	Totaal bijgeschreven	
1.234,45	345,88	

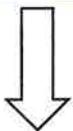
Datum	Beleatsrekening	Pagina	Volgnr.
03-01-2013	756243254	1 van 1	1
IBAN		IBC	
NL97 INGB 0756 2432 54		INGBNL2A	
Op je rekening	Vorig totaal bedrag		
0,02	0,00		
Van je rekening	Nieuw totaal bedrag		
0,00	0,02		
Reeteperscentage			
2,00%			
Code	Rekeningnummer	AS/BSJ	Bedrag
VZ	2079400	BIJ	0,02

Plaatje 34:

€ 3,88



Plaatje 35:



Plaatje 36:



Plaatje 37:



Plaatje 38:



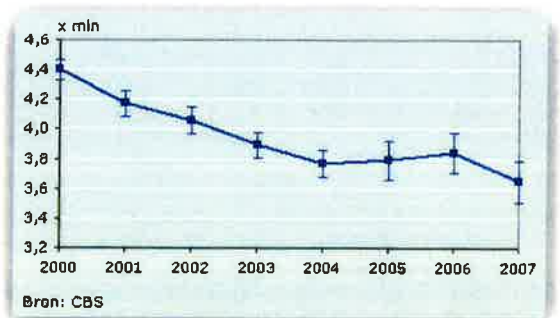

Plaatje 39:

A	B	C	D	E	F	G	H
1	Naam	Provincie	Datum	Aantal	Artikel	Prijs	Totaal
2	De Cock	WV	11/10/2010	18	Office Basic	189,00 €	3.402,00 €
3	Van Kottler	WV	21/12/2010	30	Office Prof.	309,00 €	9.270,00 €
4	Peeters	OV	18/07/2009	78	Office Prof.	309,00 €	24.102,00 €
5	De Wilde	Limborg	6/06/2010	86	Office Basic	189,00 €	16.254,00 €
6	Janssens	Antwerpen	4/09/2010	35	Office Basic	189,00 €	6.615,00 €
7	De Wilde	OV	6/08/2009	15	Office Basic	189,00 €	2.835,00 €
8	Peeters	OV	10/12/2011	42	Office Basic	189,00 €	7.938,00 €
9	Van Geel	Antwerpen	22/04/2010	36	Office Prof.	309,00 €	11.124,00 €
10	Peeters	WV	22/05/2009	72	Office Prof.	309,00 €	22.248,00 €
11	De Cock	OV	19/11/2010	81	Office Prof.	309,00 €	25.029,00 €
12	Peeters	OV	11/05/2010	88	Office Basic	189,00 €	16.632,00 €
13	Pieters	WV	15/07/2009	56	Office Prof.	309,00 €	17.304,00 €
14	Janssens	OV	19/04/2010	66	Office Basic	189,00 €	12.474,00 €
15	Van Geel	OV	22/12/2011	24	Office Prof.	309,00 €	7.416,00 €
16	Pieters	Brabant	13/08/2010	89	Office Prof.	309,00 €	27.501,00 €
17	Van Kottler	OV	2/06/2009	12	Office Basic	189,00 €	2.268,00 €
18	Willems	WV	25/04/2009	15	Office Prof.	309,00 €	4.635,00 €
19	Van Kottler	OV	11/12/2010	55	Office Basic	189,00 €	10.395,00 €
20	Willems	Limborg	25/08/2011	68	Office Basic	189,00 €	12.852,00 €
21	Peeters	WV	25/08/2010	64	Office Prof.	309,00 €	19.776,00 €
22	De Cock	WV	4/08/2009	96	Office Basic	189,00 €	18.144,00 €

Wealth Accumulation after 25 Years, Inflation Adjusted

Monthly Investment	Annual Rate of Return												
	4%	5%	6%	7%	8%	9%	10%	11%	12%	13%	14%	15%	
1.000,00	10.000,00	11.000,00	12.000,00	13.000,00	14.000,00	15.000,00	16.000,00	17.000,00	18.000,00	19.000,00	20.000,00	21.000,00	22.000,00
2.000,00	20.000,00	22.000,00	24.000,00	26.000,00	28.000,00	30.000,00	32.000,00	34.000,00	36.000,00	38.000,00	40.000,00	42.000,00	44.000,00
3.000,00	30.000,00	33.000,00	36.000,00	39.000,00	42.000,00	45.000,00	48.000,00	51.000,00	54.000,00	57.000,00	60.000,00	63.000,00	66.000,00
4.000,00	40.000,00	44.000,00	48.000,00	52.000,00	56.000,00	60.000,00	64.000,00	68.000,00	72.000,00	76.000,00	80.000,00	84.000,00	88.000,00
5.000,00	50.000,00	55.000,00	60.000,00	65.000,00	70.000,00	75.000,00	80.000,00	85.000,00	90.000,00	95.000,00	100.000,00	105.000,00	110.000,00
6.000,00	60.000,00	66.000,00	72.000,00	78.000,00	84.000,00	90.000,00	96.000,00	102.000,00	108.000,00	114.000,00	120.000,00	126.000,00	132.000,00
7.000,00	70.000,00	77.000,00	84.000,00	91.000,00	98.000,00	105.000,00	112.000,00	119.000,00	126.000,00	133.000,00	140.000,00	147.000,00	154.000,00
8.000,00	80.000,00	88.000,00	96.000,00	104.000,00	112.000,00	120.000,00	128.000,00	136.000,00	144.000,00	152.000,00	160.000,00	168.000,00	176.000,00
9.000,00	90.000,00	99.000,00	108.000,00	117.000,00	126.000,00	135.000,00	144.000,00	153.000,00	162.000,00	171.000,00	180.000,00	189.000,00	198.000,00
10.000,00	100.000,00	110.000,00	120.000,00	130.000,00	140.000,00	150.000,00	160.000,00	170.000,00	180.000,00	190.000,00	200.000,00	210.000,00	220.000,00

Plaatje 40:



Plaatje 41:



Hoeveel?

Plaatje 42:



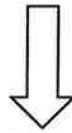
Plaatje 43:



Plaatje 44:



Plaatje 45:



Plaatje 46:



Plaatje 47:








Plaatje 48:

Pakketten binnen Nederland

Maximumformaat: 100 x 50 x 50 cm (10-30 kg 176 x 78 x 58 cm).

Tarieven in euro's.

	t/m	10 kg	30 kg
 Pakket - bezorgd op huisadres • Track & Trace Indien Online gefrankeerd		6,95	13,25
		6,50	12,71
 Pakket - bezorgd op PostNL-locatie • Track & Trace • Uitsluitend Online te frankeren		5,95	12,04
 Aangetekend • Handtekening voor ontvangst • Track & Trace • Tot €500 verzekerd Indien Online gefrankeerd		8,60	14,90
		8,15	14,36
 Verzekerderservice • Handtekening voor ontvangst • Track & Trace • Tot €5.500 verzekerd		14,45	20,75
 Betaalservice • Rembours (ontvanger betaalt) • Handtekening voor ontvangst • Track & Trace • Tot €500 verzekerd		18,35	23,20